

班別：三_____ 姓名：_____ () 成績：_____

(一) 計算下列各題

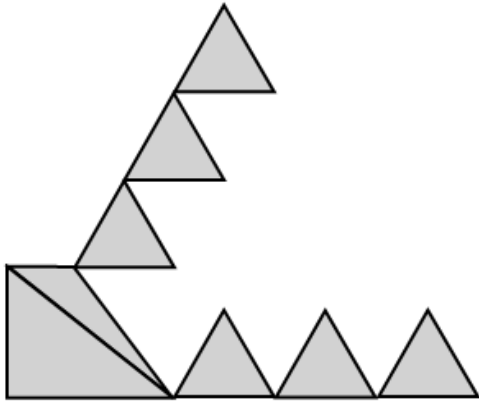
答案欄

1. $624 \div 3 = ?$ 1. _____
2. $962 \div 8 = ?$ 2. _____
3. $? \div 7 = 6 \dots 5$ 3. _____
4. 有練習簿 180 本，每本售 10 元，現每 6 本
紮成一疊，共可紮成多少疊？ 4. _____ 疊
5. 用下面的數字卡排出最小的五位雙數。

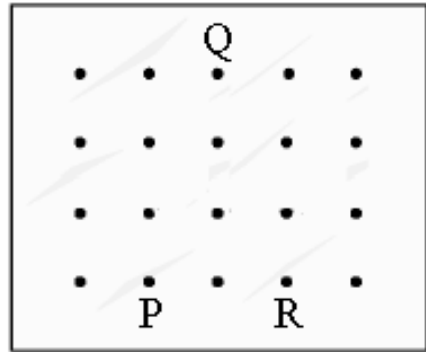
8	0	3	1	4
---	---	---	---	---

 5. _____
6. 計程車每輛可載 4 人，現有 50 人等候
乘搭，最少需要計程車多少輛？ 6. _____ 輛

1. 等邊三角形有 _____ 條邊長度相等。



圖(一)



圖(二)

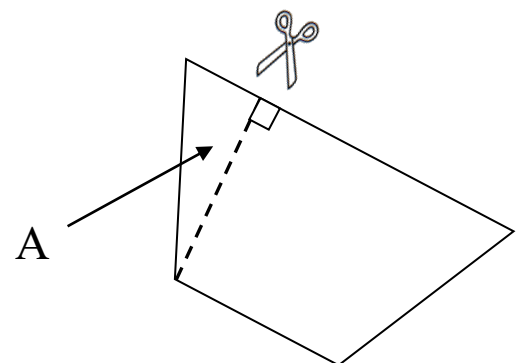
2. 圖(一)是由 _____ 個三角形組成。

3. 圖(一)有 _____ 個直角三角形。

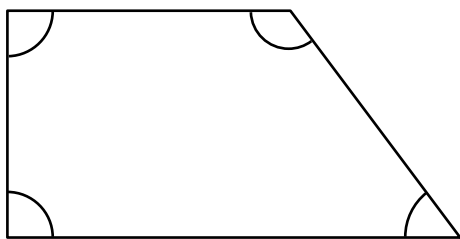
4. 圖(一)有 _____ 個等邊三角形。

5. 在圖(二)用直線連起釘點紙上的 P 點、Q 點和 R 點後，可以得出一個 _____ 三角形。

6. 沿着虛線把下面的梯形剪開後，
圖形 A 是一個 _____ 三角形。



數一數圖形內各種角的數量。



7. 銳角: _____ 個

8. 鈍角: _____ 個

9. 直角: _____ 個

(三) 應用題

1. 爸爸和 3 名子女合資買生日禮物送給媽媽，共用去 780 元，平均每人要付_____元。
2. 課室裏有中文圖書 256 本，英文圖書 104 本，漫畫書 120 本，班長把英文圖書每 8 本放在一個盒子內，共需盒子_____個。
3. 一班學生共有 376 人，每 9 人分成一組，共可分成_____組。
4. 一班學生共有 376 人，每 9 人分成一組，還餘_____人。
5. 哥哥有 372 元，比弟弟多 126 元，兩人共有_____元。
6. 表姐有公仔貼紙 128 個，是表妹的一半，表妹有公仔貼紙_____個。