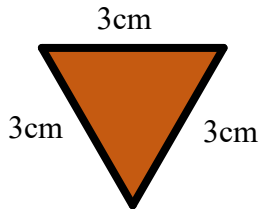


數學科 三角形 工作紙(二)

班別：3 _____ 姓名：_____ () 成績：_____

細閱問題選擇正確的答案。

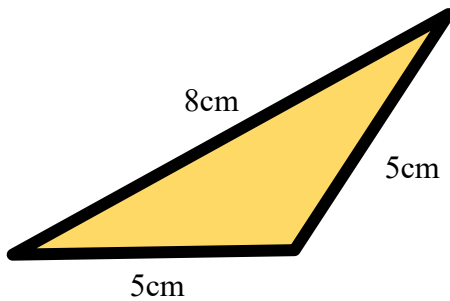
1.



上圖是一個...

- A. 直角三角形 B. 等邊三角形
 C. 等腰三角形 D. 等腰直角三角形

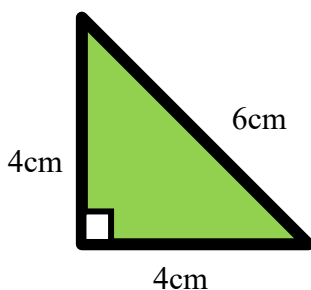
2.



上圖是一個...

- A. 直角三角形 B. 等邊三角形
 C. 等腰三角形 D. 不等邊三角形

3.



上圖是一個...

- A. 不等邊三角形 B. 等邊三角形
 C. 不等腰三角形 D. 等腰直角三角形

4. 有一個三角形的兩條邊長分別是 3 厘米和 7 厘米，

它的第三條邊長的長度可能是…

- A. 2 厘米
- B. 3 厘米
- C. 8 厘米
- D. 10 厘米

5. 有一個三角形的兩條邊長分別是 12 厘米和 5 厘米，

它的第三條邊長的長度是…

- A. 5 厘米
- B. 6 厘米
- C. 7 厘米
- D. 8 厘米

6. 有一個等腰三角形的兩條邊長分別是 10 厘米和 4 厘米，

它的第三條邊長的長度是…

- A. 4 厘米
- B. 8 厘米
- C. 10 厘米
- D. 14 厘米

7. 有一個等腰三角形的兩條邊長分別是 7 厘米和 7 厘米，

它的第三條邊長的長度是…

- A. 7 厘米
- B. 8 厘米
- C. 14 厘米
- D. 15 厘米