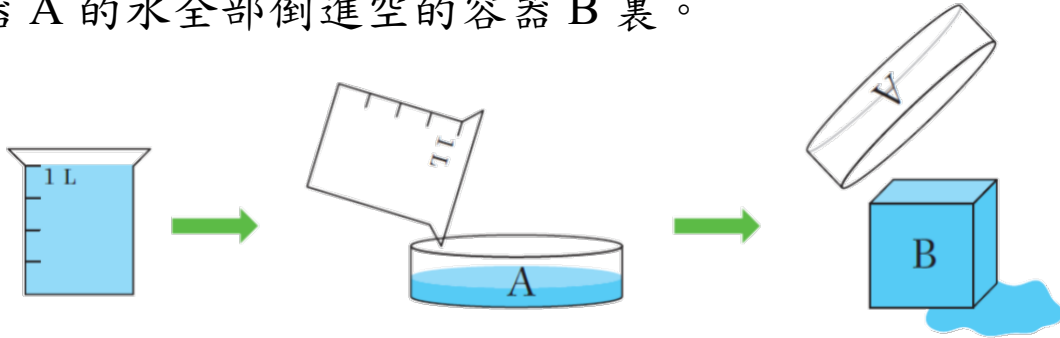


班別：3_____ 姓名：_____ () 成績：_____

1. 小欣把以下量杯的水全部倒進空的容器 A 裏，然後再把容器 A 的水全部倒進空的容器 B 裏。



下列哪一項描述是正確的？

- A. 容器 B 的容量比容器 A 小
 - B. 容器 A 的容量和容器 B 相同
 - C. 容器 A 的容量比 1 升小
 - D. 容器 B 的容量比 1 升大
2. 食店職員正在選購花生油。

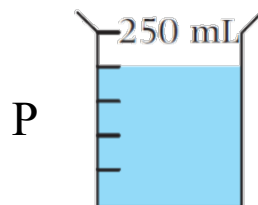


食店每天要使用 2 升花生油，如要足夠食店使用 6 天，職員最少要購買花生油 4 瓶。

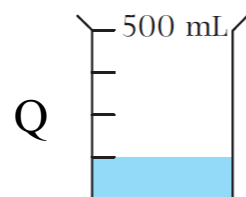
3. 下列哪一項的容量約是 5 升？

- A. 飯碗 **B. 湯煲** C. 茶杯 D. 泳池

4. 量杯 P 有水 200 mL。



5. 量杯 Q 有水 125 mL。



在 _____ 上填上適當的容量單位。

6. 一個熱水壺的容量約是 2 L/升。

7. 一個食物盒的容量約是 750 mL/毫升。

8. 一個行李箱的容量約是 55 L/升。

完成下列兩題。

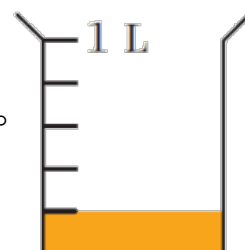
9. 媽媽把一個湯煲注滿水，然後把全部水倒進以下 2 個空的量杯內。



湯煲的容量是 2500 mL。

10. 陳太原有橙汁 850 毫升，她的孩子飲了些，

餘下右面的橙汁，孩子飲了橙汁 650 mL。

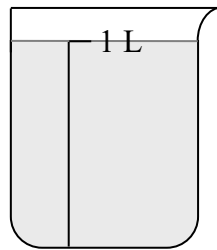
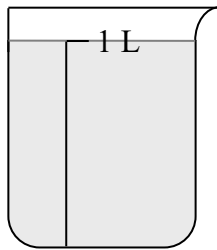
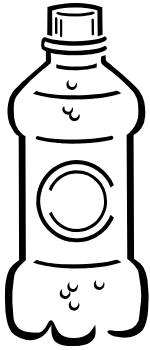


三年級 單元十三 容量 工作紙 (升和毫升)(二)

班別：3_____ 姓名：_____ () 成績：_____

寫出以下容器的容量。

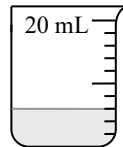
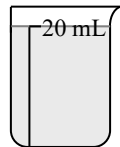
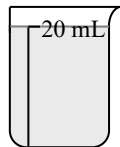
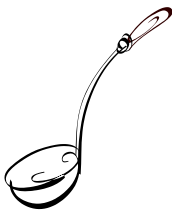
1.



這瓶有汽水

2 L。

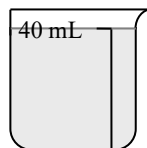
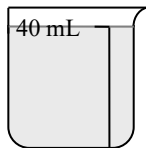
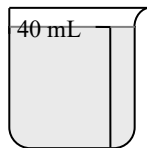
2.



杓子的容量是

46 mL。

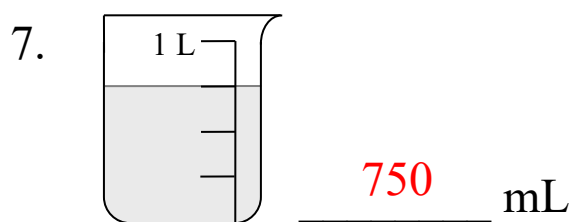
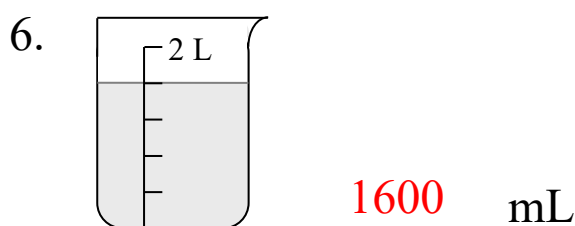
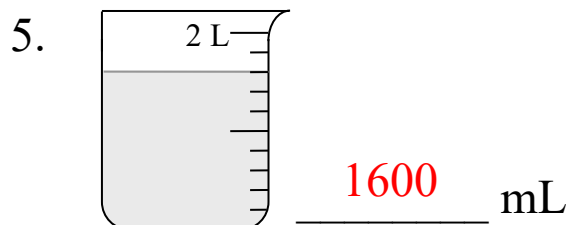
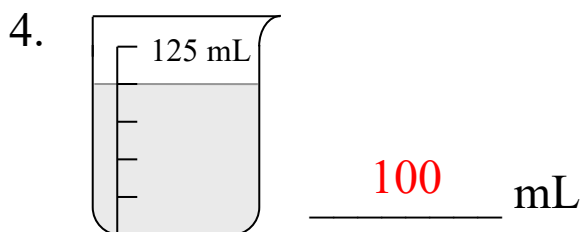
3.



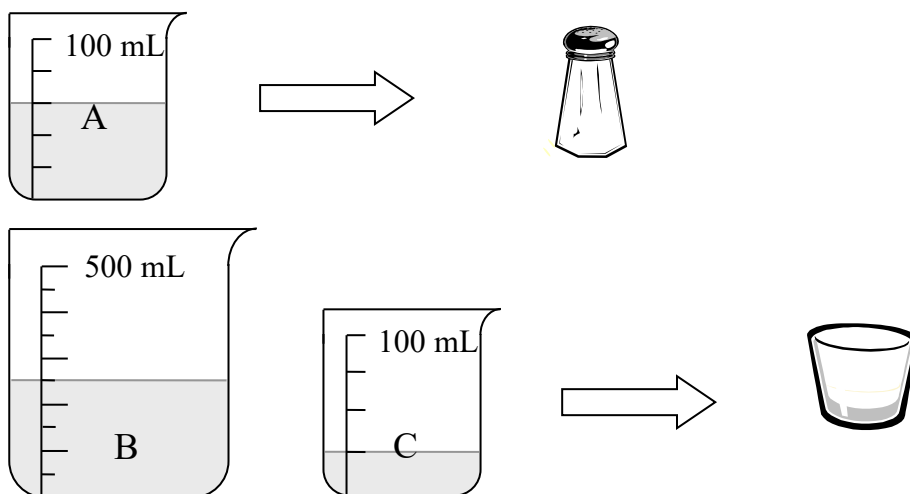
奶樽的容量約

228 mL。

第 4 至 7 題的量杯內，有液體多少毫升 (mL) ？



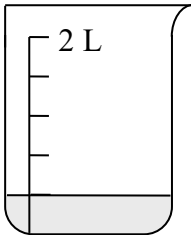
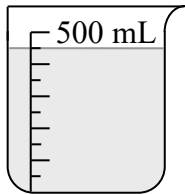

填一填。




8. 量杯 A 內的水剛好注滿一個鹽樽，鹽樽的容量是 60 mL。

9. 量杯 B 和量杯 C 內的水剛好注滿一個玻璃杯，玻璃杯的容量是 275 mL。

10. 鹽樽的容量 (A. 多於 / B. 少於 / C. 等於) 玻璃杯的容量。

11.  和  剛好注滿  。

 的容量是 850 mL 。

12. 2 L 317 mL = 2317 mL

13. 7 升 528 毫升 = 7528 毫升

14. 6 L 23 mL = 6023 mL

15. 14 升 9 毫升 = 14 009 毫升

在下列各項填上適當的度量單位。

16. 馬拉松 賽跑全程約 42 000 m / 米 。

17. 一部雪櫃的重量約 90 kg / 公斤 。

18. 一盒牛奶的容量是 236 mL / 毫升 。

19. 香港與東京 的距離約 2900 km / 公里 。

20. 一本筆記簿的厚度約 7 mm / 毫米 。

21. 一枝鉛筆的重量約 6 g / 克 。

22. 哥哥的身高約 166 cm / 厘米 。